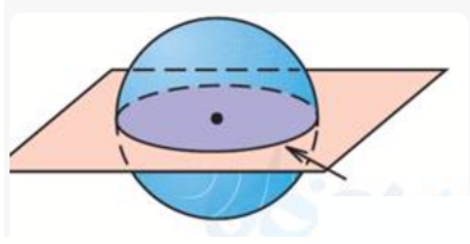
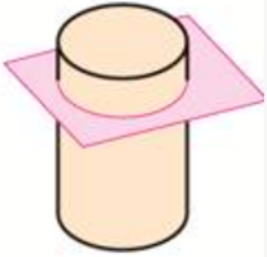
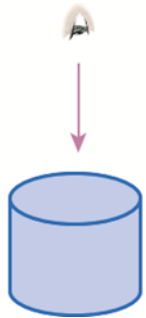


ریاضی پایه هفتم
فصل ششم - حل تمرینات صفحه ۷۲ کتاب درسی

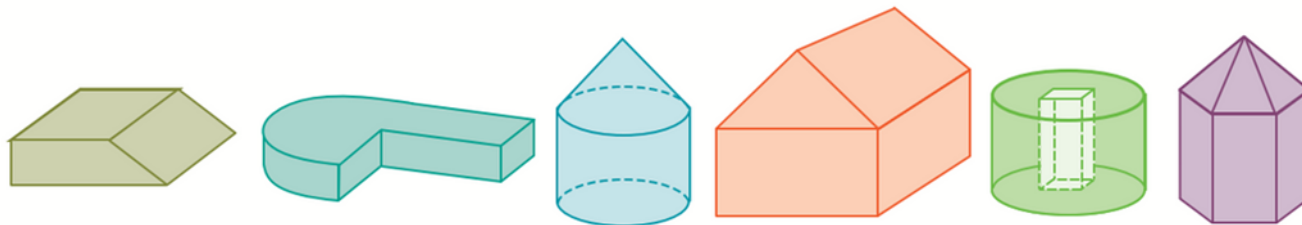
۱- آیا ممکن است مقطع یک کره و یک استوانه هم شکل باشند؟ در چه صورت؟
آیا ممکن است مقطع یک منشور و یک هرم هم شکل باشند؟



۲- یک استوانه از دید بالا به چه شکلی دیده می شود؟
یک منشور ۶ پهلو به چه شکلی دیده می شود؟




۳- مشخص کنید هر کدام از حجم های زیر، ترکیبی از کدام حجم ها هستند؟



بِسْمِ اللَّهِ الرَّحْمَنِ الرَّحِيمِ



 math_clinic_boukan

 @hajatmand00

 09149820844

۴- حجم مقابل را از ۴ جهت نگاه می‌کنیم این حجم از ۴ طرف به چه شکلی دیده می‌شود؟

